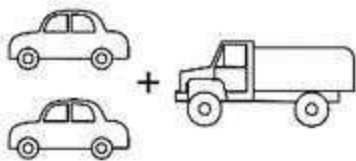
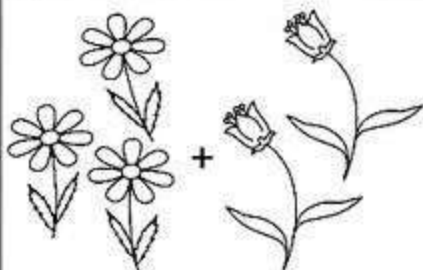


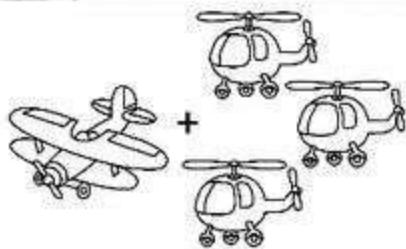
Сосчитай предметы и реши примеры. Запиши ответы.



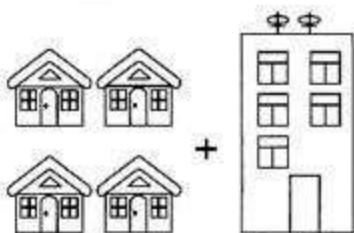
2	+	1	=	
---	---	---	---	--




3	+	2	=	
---	---	---	---	--



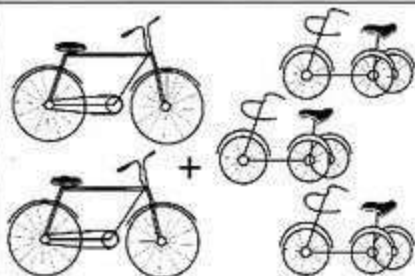
1	+	3	=	
---	---	---	---	--



4	+	1	=	
---	---	---	---	--




2	+	2	=	
---	---	---	---	--

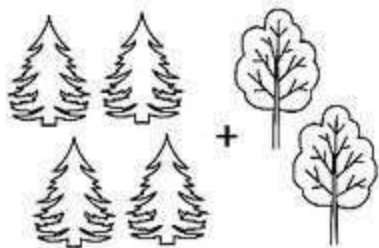


2	+	3	=	
---	---	---	---	--


Сосчитай предметы на картинках, реши примеры, запиши ответы.



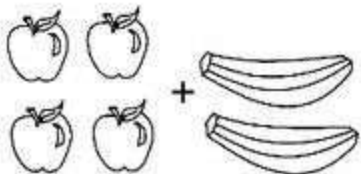
3	+	3	=	
---	---	---	---	--



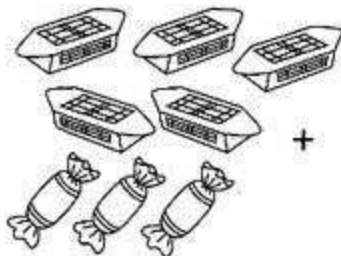
4	+	2	=	
---	---	---	---	--



5	+	4	=	
---	---	---	---	--



4	+	2	=	
---	---	---	---	--

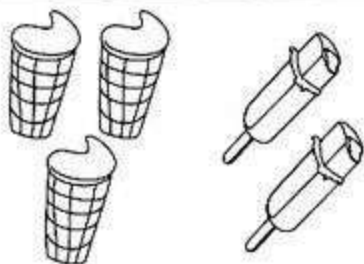


5	+	3	=	
---	---	---	---	--

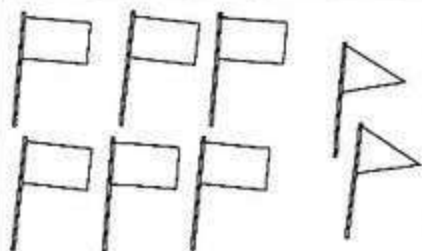


5	+	5	=	
---	---	---	---	--

Вставь пропущенные числа и реши примеры.




$$\square + \square = \square$$




$$\square + \square = \square$$



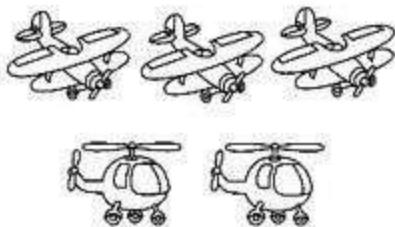
$$\square + \square = \square$$



$$\square + \square = \square$$




$$\square + \square = \square$$




$$\square + \square = \square$$

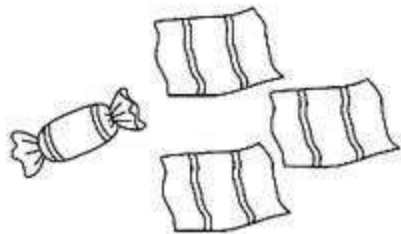
Рассмотри картинки. Сосчитай предметы и реши примеры на вычитание.



$$3 - 1 = \square$$



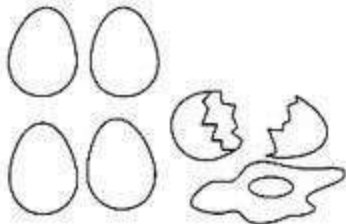
$$4 - 2 = \square$$




$$4 + 3 = \square$$



$$5 - 2 = \square$$




$$5 - 1 = \square$$

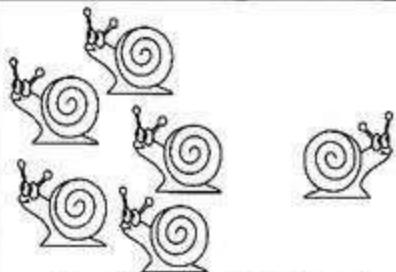


$$6 - 3 = \square$$


Реши примеры на вычитание и впиши полученные ответы.




$$\boxed{7} - \boxed{3} = \boxed{}$$




$$\boxed{6} - \boxed{1} = \boxed{}$$



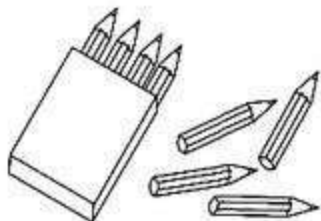
$$\boxed{8} - \boxed{2} = \boxed{}$$



$$\boxed{9} - \boxed{1} = \boxed{}$$




$$\boxed{6} - \boxed{2} = \boxed{}$$



$$\boxed{8} - \boxed{4} = \boxed{}$$

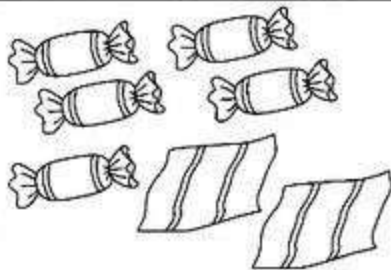
Впиши нужные цифры в клетки и реши примеры.



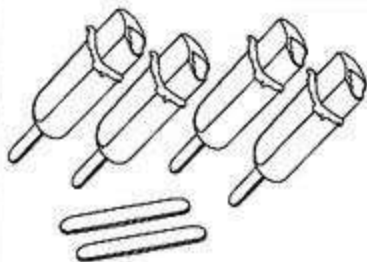
	-		=	
--	---	--	---	--




	-		=	
--	---	--	---	--



	-		=	
--	---	--	---	--



	-		=	
--	---	--	---	--



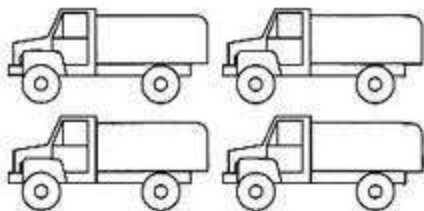
	-		=	
--	---	--	---	--



	-		=	
--	---	--	---	--

Реши задачи на сложение.

У Вовы было две легковые и четыре грузовые машинки. Сколько всего машинок у Вовы?



2	+	4	=	
---	---	---	---	--

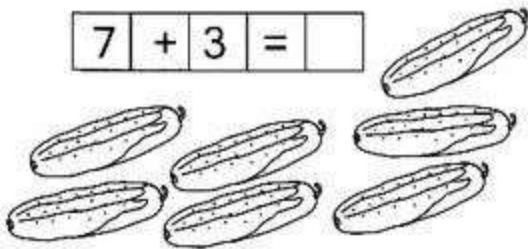
В вазе лежало пять яблок и две груши. Сколько всего фруктов лежало в вазе?



5	+	2	=	
---	---	---	---	--

Таня сорвала семь огурцов, а Ирина - три морковки. Сколько всего овощей у девочек?


7	+	3	=	
---	---	---	---	--



Реши задачи на сложение.


В гости к Коле пришли три мальчика и две девочки. Сколько всего гостей у Коли?

3	+	2	=	
---	---	---	---	--



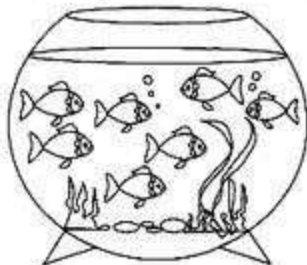
У Мурки четыре чёрных котёнка и три белых. Сколько всего котят у Мурки?

4	+	3	=	
---	---	---	---	--




В аквариуме плавали пять рыбок, к ним пустили ещё двух. Сколько рыбок стало в аквариуме?

5	+	2	=	
---	---	---	---	--

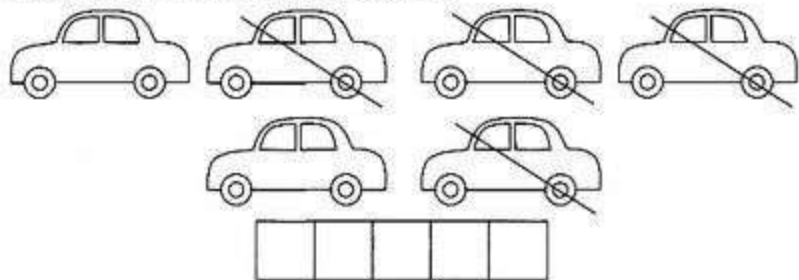


Реши задачи на вычитание и запиши решение.

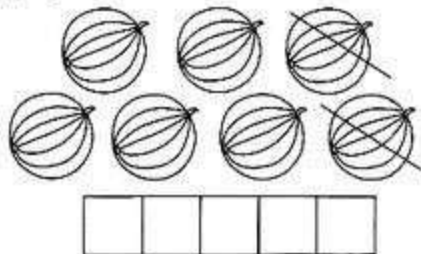
На ветке сидели пять птиц. Две птицы улетели.
Сколько птиц осталось на ветке?



В гараже стояли шесть машин. Четыре уехали.
Сколько машин осталось?




Папа купил семь арбузов. Два арбуза съели.
Сколько арбузов осталось?



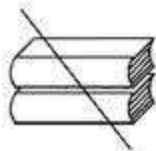
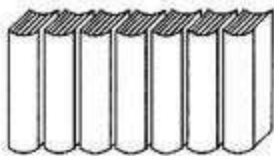
Реши задачи на вычитание и запиши решения.

На яблоне росло восемь яблок. Пять из них сорвали. Сколько осталось?

--	--	--	--	--



На полке стояло девять книг. Рома взял две книги. Сколько книг осталось на полке?



--	--	--	--	--

На столе стояли шесть чашек. Четыре чашки мама убрала. Сколько чашек осталось на столе?



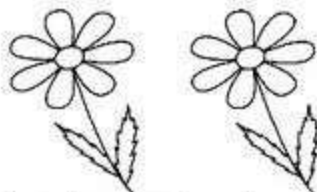

--	--	--	--	--






Придумай сам задачи по картинкам и запиши решения.



--	--	--	--	--

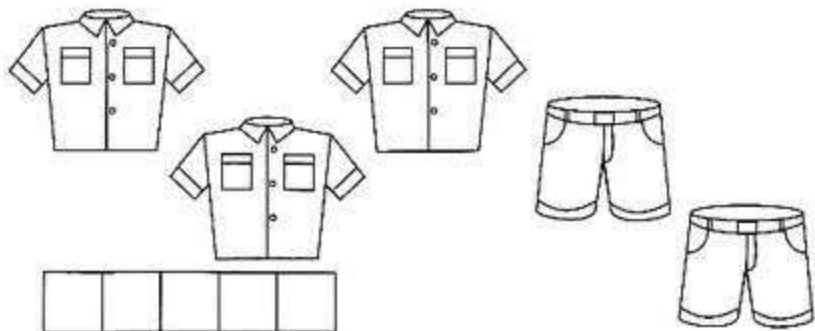

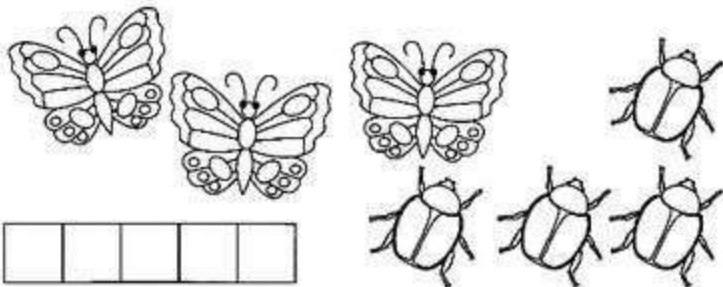


--	--	--	--	--




--	--	--	--	--

Придумай сам задачи по картинкам и запиши решения.




Рассмотри картинки. Впиши числа и реши задачи.

Миша поймал шесть рыбок, а Дима на три больше. Сколько рыбок поймал Дима?




--	--	--	--	--

Катя прочитала пять сказок, а Марина на одну больше. Сколько сказок прочитала Марина?



--	--	--	--	--

Ваня нашёл четыре гриба, а Саша на два гриба больше. Сколько грибов нашёл Саша?




--	--	--	--	--

Рассмотри картинки. Впиши числа и реши задачи.

Девочек -




Мальчиков на 2 больше.



Сколько мальчиков?

--	--	--	--	--

Грузовых машин -




Легковых на 1 больше.

Сколько легковых машин?



--	--	--	--	--


Стол -



Стульев на 2 больше.

Сколько стульев?

--	--	--	--	--



Рассмотри картинки. Впиши числа и реши задачи.

Ракеток -

Мячиков на 4 меньше.

Сколько мячиков?

--	--	--	--	--




Карасей - штук.

Ершей на 3 меньше.

Сколько ершей?

--	--	--	--	--




Кошек -

Собак на 6 меньше.

Сколько собак?

--	--	--	--	--

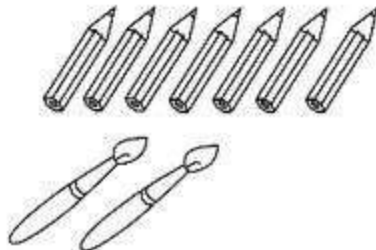


Карандашей -

Кисточек на 5 меньше.

Сколько кисточек?

--	--	--	--	--



Рассмотри картинки. Впиши числа и реши задачи.

Мячей - штук.



Скакалок на 3 меньше.



Сколько скакалок?

--	--	--	--	--



Бельчат -



Ежат на 2 меньше.

Сколько ежат?

--	--	--	--	--

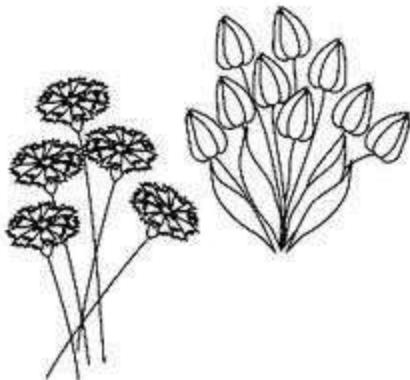


Тюльпанов - штук.

Гвоздик на 4 меньше.

Сколько гвоздик?

--	--	--	--	--



$1+2$

$10-1$

$3+2$

$8-2$

$4+3$

$7-3$

$5+4$

$6-4$

$6+2$

$5-3$

$7+3$

$2-1$

